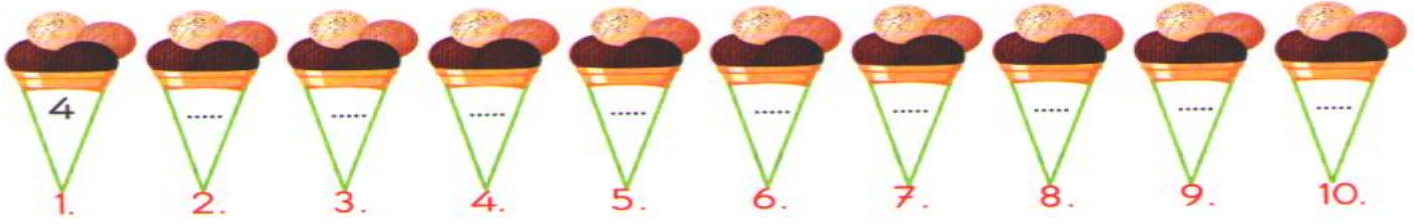


DÖRDER İLERİ VE GERİ RİTMİK SAYMALAR

akodran


*Dondurma toplarını dörder ritmik sayma yaparak sayın ve yazın. Soruları yanıtlayın.



- 4. saymada hangi sayıyı söylediniz?.....

- 8. saymada hangi sayıyı söylediniz?.....

*Aşağıdaki kelebekleri geriye doğru dörder ritmik sayma yapınız.

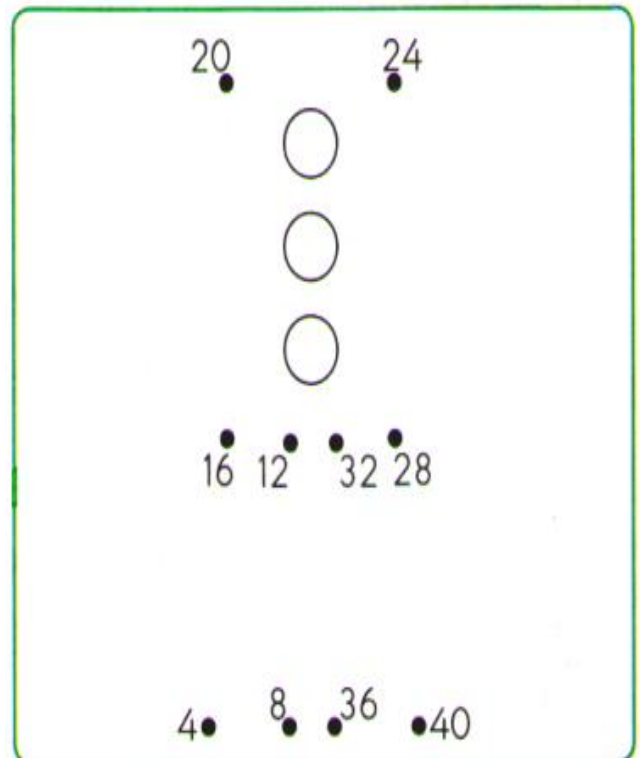
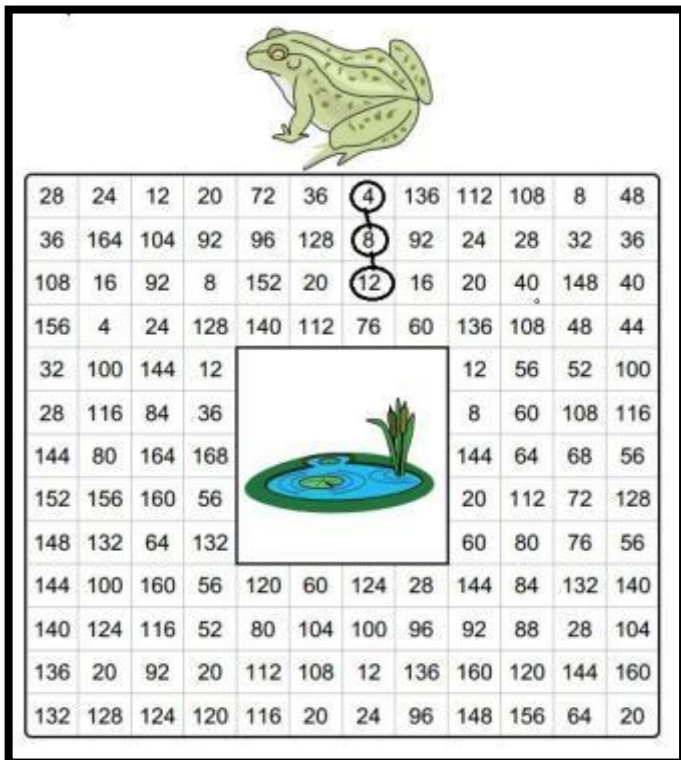


*Aşağıdaki tabloda dörder ritmik sayma yapınız. Söylediğiniz sayıları yeşile boyayınız.

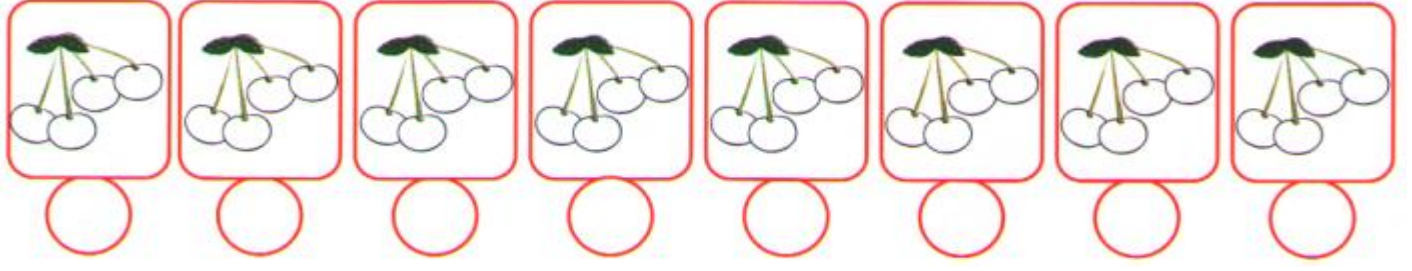
1	2	3	4	5	6	7	8	9	10
11	12	13	14	15	16	17	18	19	20
21	22	23	24	25	26	27	28	29	30
31	32	33	34	35	36	37	38	39	40

*Aşağıdaki kurbağayı dörder ritmik sayma yaparak suya götürünüz.

*Aşağıdaki noktaları dörder ritmik sayma yaparak birleştirip resmi boyayın.




*Kirazları 6'dan başlayıp ileriye doğru dörder sayın. Soruları cevaplayın.



- 3. saymada hangi sayıyı söylediniz?.....

- 6. saymada hangi sayıyı söylediniz?.....

*Parmaklarınızı şekildeki gibi tutun. 39'dan başlayıp dörder geriye doğru sayın. Saydığınız sayıları yıldızlara yazın. Soruları cevaplayın.



- 4. saymada hangi sayıyı söylediniz?.....

- 8. saymada hangi sayıyı söylediniz?.....

* Aşağıdaki soruları cevaplayınız.

- 8'den **ileriye doğru** dörder ritmik sayma yaptığımızda 5. söylediğimiz sayı nedir?.....

- 22'den **geriye doğru** dörder ritmik sayma yaptığımızda 4. söylediğimiz sayı nedir?.....

- 14'ten **ileriye doğru** dörder ritmik sayma yaptığımızda 6. söylediğimiz sayı nedir?.....

- 34'ten **geriye doğru** dörder ritmik sayma yaptığımızda 7. söylediğimiz sayı nedir?.....

*Aşağıdaki noktalı yerleri dörder ritmik sayma yaparak tamamlayın.

-16 – 20 ---.....-.....-.....

- 9 – 13 ---.....-.....-.....

-28 – 24 ---.....-.....-.....